

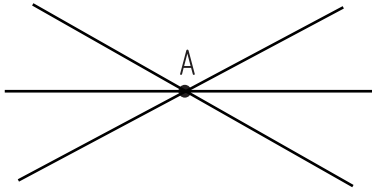
# 1 平面図形の基礎

学習日 月 日




【講義】平面図形/平面図形の基礎(1)/用語について

点Aを通る直線を何本か引きなさい

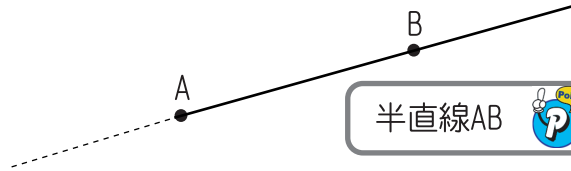


2点A, Bを通る直線を引きなさい

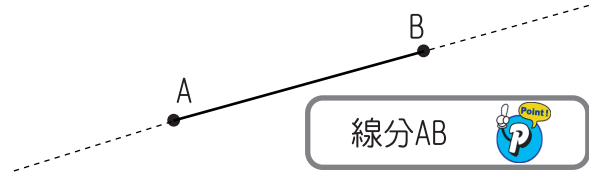


2点は1直線を決定する

直線AB

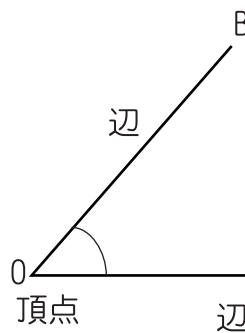


半直線AB



線分AB

線分ABの長さをABで表せる。







$\angle AOB$

注  $\angle BOA$ 、 $\angle O$

練習 1

下の図(1)~(4)が表している線を何というか。

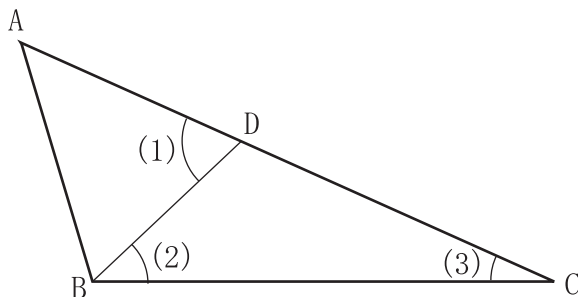


答え. 

(1)		(2)		(3)		(4)	
-----	--	-----	--	-----	--	-----	--

練習 2

下の図で次の(1)~(3)を文字A~Dを使って表せ。



答え. 

(1)		(2)		(3)	
-----	--	-----	--	-----	--