

# 1 長方形や正方形の面積


学習日 月 日



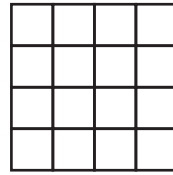
【講義】平面図形の求積/面積(1)/長方形や正方形の面積

## ■広さの比べ方

どちらが広いかな？

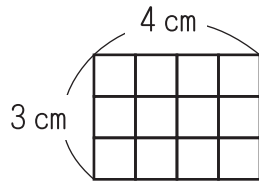



まい




まい

広さのくらべかた



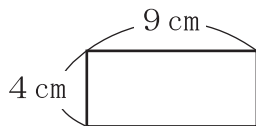
タイルのまい数でくらべる

1辺の長さが1 cmのタイル =

$3 \times 4 = 12$     12

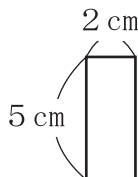
広さ  $\longleftrightarrow$  面積

練習 1 たての長さが4 cm、よこの長さが9 cmの長方形の面積は？



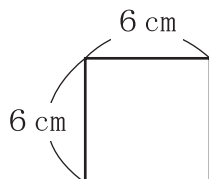
答え.

練習 2 たての長さが5 cm、よこの長さが2 cmの長方形の面積は？



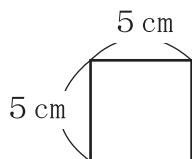
答え.

練習 3 1辺の長さが6 cmの正方形の面積は？



答え.

練習 4 1辺の長さが5 cmの正方形の面積は？



答え.

## ■長方形・正方形の面積

長方形 … たて×よこ

正方形 … 1辺×1辺

公式!

