

1 平行四辺形と三角形

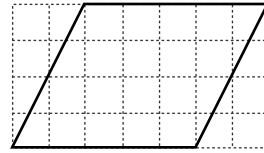
学習日 月 日



【講義】平面図形の求積/図形の面積<平行四辺形>/公式を考える

練習 1

右の図のように1目もりが1 cmの方眼紙に書いた平行四辺形の面積を求めましょう。

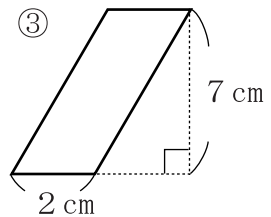
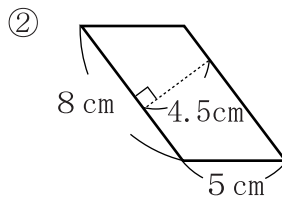
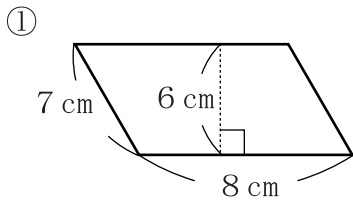


答え.

※ 平行四辺形の面積 = 底辺 × 高さ

練習 2

次の平行四辺形の面積を求めましょう。



答え. ① ② ③