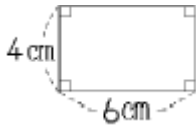
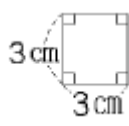


[1] 次の図形の面積をもとめなさい。

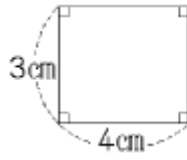
(1)



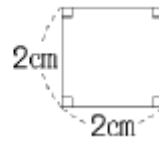
(2)



(3)



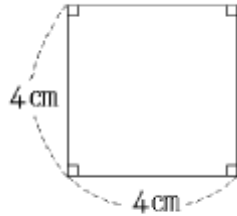
(4)



(5)



(6)

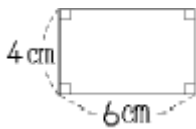


[2] 次の図形の面積をもとめなさい。

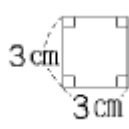
- (1) たての長さが 8 cm、よこの長さが 7 cm の長方形
- (2) たての長さが 14 cm、よこの長さが 11 cm の長方形
- (3) 一辺の長さが 9 cm の正方形
- (4) 一辺の長さが 11 cm の正方形

〔1〕 次の図形の面積をもとめなさい。

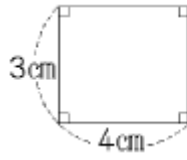
(1) 24 cm^2



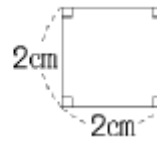
(2) 9 cm^2



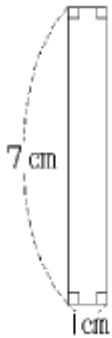
(3) 12 cm^2



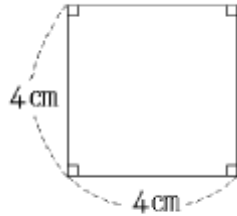
(4) 4 cm^2



(5) 7 cm^2



(6) 16 cm^2



(各10点×6=60点)

〔2〕 次の図形の面積をもとめなさい。

(1) たての長さが8 cm、よこの長さが7 cm の長方形 56 cm^2

(2) たての長さが14 cm、よこの長さが11 cm の長方形 154 cm^2

(3) 一辺の長さが9 cm の正方形 81 cm^2

(4) 一辺の長さが11 cm の正方形 121 cm^2

(各10点×4=40点)